

② 点対称

点対称の図形に○をつけてください。
〈アルファベット〉

① C

② H




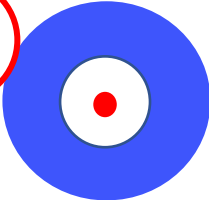
③ Q

④ S

⑤ W

⑥ I

〈図〉

① ② ③ ④ ⑤ ⑥ 

〈自分で点対称な図形を3つ書いてみよう〉

- ・ 180度回転した時、どこの辺や点がどこに動くかをイメージします。
- ・ 中心点から先に考えるのもありますよ。